



## 2B.2 Telling time


**1** **L'heure** Give the time shown on each clock. Use complete sentences and write out the times.




1. \_\_\_\_\_




2. \_\_\_\_\_



3. \_\_\_\_\_



4. \_\_\_\_\_



5. \_\_\_\_\_



6. \_\_\_\_\_

**2** **Quelle heure est-il?** Convert these times into digits using the 24-hour clock.

**Modèle**

Il est quatre heures de l'après-midi.

16h00

1. Il est quatre heures moins vingt de l'après-midi. \_\_\_\_\_
2. Il est six heures du matin. \_\_\_\_\_
3. Il est neuf heures et quart du soir. \_\_\_\_\_
4. Il est midi. \_\_\_\_\_
5. Il est une heure dix de l'après-midi. \_\_\_\_\_
6. Il est onze heures moins le quart du matin. \_\_\_\_\_
7. Il est cinq heures cinq du soir. \_\_\_\_\_
8. Il est minuit moins dix. \_\_\_\_\_
9. Il est une heure et demie du matin. \_\_\_\_\_
10. Il est dix heures du soir. \_\_\_\_\_